

## الإختبار الثلاثي الثاني في مادة التكنولوجيا

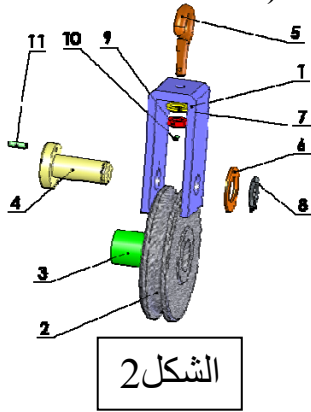
- فرع هندسة ميكانيكية - المدة الزمنية: ساعة

اللقب: ..... الإسم: ..... القسم: .....

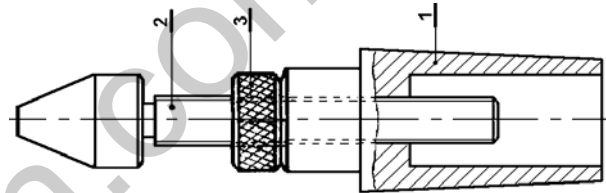
التمرين الأول :

ضع علامة X في المكان المناسب :

- 1 - التكنولوجيا هي :  التقنيات مؤسسة على مبادئ علمية .  
 الوسائل والاختراعات المتطورة التي تلبي حاجة الإنسان .  
 معارف علمية .
- 2 - المؤسسة هي مجموعة الموارد البشرية والمادية، ضيف إلى هذا التعريف حتى يكون تاما إحدى المعاني التالية:  
 أن تكون لها إدارة منظمة  
 أن يكون لها ر. ب. ح .  
 أن يكون لها رأس مال
- 3- من بين ما تنتجه المؤسسة البكرات المستعملة في آبار المياه و بعض أعمال البناء. ( أنظر الشكل 1 و الشكل 2 )



الشكل 2



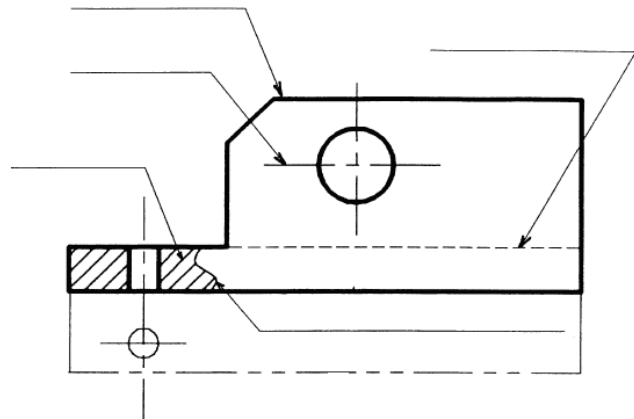
الشكل 1

- ما نوع هذه الرسومات ؟

الشكل -1- : .....



الشكل -2- : .....

4- سم الخطوط المشار إليها في الرسم .



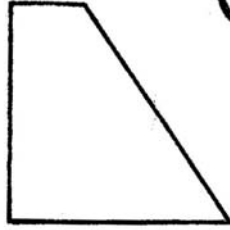
• أكتب أسماء المساقط في الأشكال الأربعة .

1




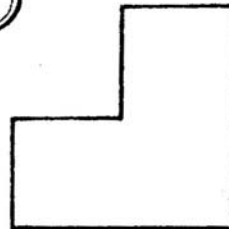
الشكل 1

2





الشكل 2

3



الشكل 3

4



الشكل 4

