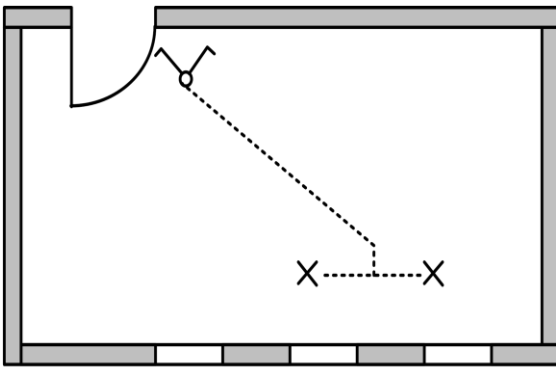


التمرين الرابع : (10 نقاط)



أردنا تركيب إنارة قاعة ومن أجل ذلك زدنا التقني المتخصص بالمخطط المقابل :

- 1- ما اسم هذا المخطط ؟
- 2- ما نوع هذه الإنارة ؟

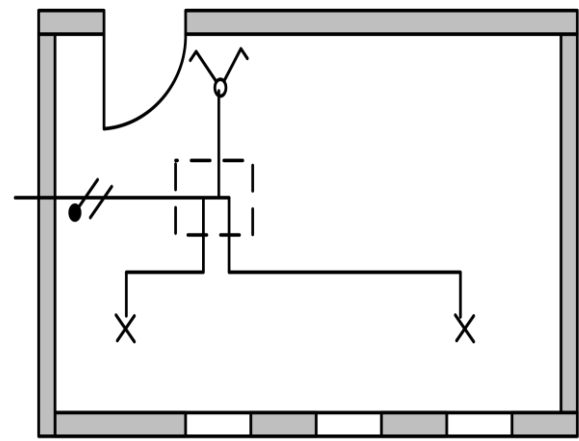

3- قبل تركيبها أردنا تقليدها باستعمال البرمجي Shemapic 3.0

عندما فتح البرمجي وجدنا في مساحة العمل المخطط التالي :

- أكمل المخطط بحيث يتلائم مع المخطط الذي زدنا به التقني المتخصص .



4- إليك المخططين التاليين :



اسم المخطط :

اسم المخطط :

- اكمل رسم المخططين مع ذكر اسم كل مخطط .

*** بالتوفيق ***